

Mathe Klasse 3
Sommerferien bis Herbstferien

Themen und Inhalte	Kompetenzen
Wiederholung ZR bis 100	<p style="text-align: center;">Die Schüler und Schülerinnen ...</p> <ul style="list-style-type: none">• festigen eingeführte Rechenverfahren➤ Addition + Subtraktion mit/ohne ZÜ <p style="text-align: center;">Arbeit Nr. 1 -----</p> <ul style="list-style-type: none">➤ Multiplikation und Division<ul style="list-style-type: none">➤ kleines Einmaleins, teilen mit Rest➤ Multischiffe➤ Mal - Plus - Häuser <ul style="list-style-type: none">• rechnen Gleichungen / Ungleichungen• lernen Rechenregel „Punkt vor Strich“ kennen und wenden diese an <p style="text-align: center;">Arbeit Nr. 2</p>

1. Schreibe auf, welche Zahlen in der Hundertertafel markiert sind!

1									
	a								
					e				
				d					
							b		
			f						
	c								
									100

/ 6

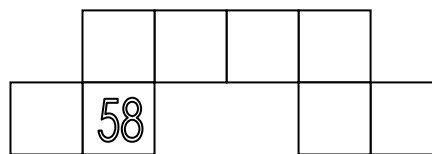
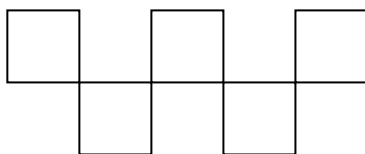
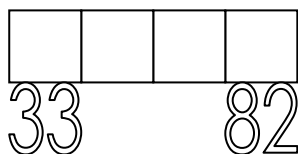
a) _____ b) _____ c) _____ d) _____

e) _____

f) _____

2. Ergänze die Ausschnitte aus der Hundertertafel!

/ 8



3. Rechne!

/ 12

a)

8	3	-	7	=		
---	---	---	---	---	--	--

b)

4	9	+	5	0	=		
---	---	---	---	---	---	--	--

5	6	+	5	=		
---	---	---	---	---	--	--

5	8	+	2	0	=		
---	---	---	---	---	---	--	--

5	4	-	8	=		
---	---	---	---	---	--	--

9	6	-	5	0	=		
---	---	---	---	---	---	--	--

c)

2	5	+	5	3	=		
---	---	---	---	---	---	--	--

d)

8	2	-	3	4	=		
---	---	---	---	---	---	--	--

4	9	+	3	7	=		
---	---	---	---	---	---	--	--

9	6	-	5	2	=		
---	---	---	---	---	---	--	--

6	6	+	2	7	=		
---	---	---	---	---	---	--	--

7	1	-	5	5	=		
---	---	---	---	---	---	--	--

4. Löse die Zahlenrätsel! Schreibe die Rechnung auf die Linie!

/ 6

a) Subtrahiere 9 von 67!

b) Berechne die Summe aus den Zahlen 26 und 61!

c) Addiere die Zahlen 17 und 25!

d) Berechne die Differenz von 76 und 23!

e) Meine Zahl ist um 11 kleiner als 79.

f) Meine Zahl ist um 20 größer als 48.

5. Rechne und schreibe jeweils zwei passende Aufgaben dazu!

a) $66 + 25 =$ _____

b) $84 - 33 =$ _____

/ 8

$56 + 25 =$ _____

$85 - 34 =$ _____

$46 + 25 =$ _____

$86 - 35 =$ _____

/ 40